

Trage beide Uhrzeiten ein.

____ Uhr
____ Uhr



Wie spät ist es in ... ?

Wie spät war es vor ... ?

| | | | |
|--|---|---|---|
| ... in 3 Stunden? ____ Uhr ____ Uhr | ... in 5 Stunden? ____ Uhr ____ Uhr | ... vor 4 Stunden? ____ Uhr ____ Uhr | ... vor 2 Stunden? ____ Uhr ____ Uhr |
| ... in 30 Minuten? ____ Uhr ____ Uhr | ... in 2 Stunden und 30 Minuten? ____ Uhr ____ Uhr | ... vor 30 Minuten? ____ Uhr ____ Uhr | ... vor 1 Stunde und 30 Minuten? ____ Uhr ____ Uhr |



Trage beide Uhrzeiten ein.

____ Uhr
____ Uhr




2

Wie spät ist es in ... ?

Wie spät war es vor ... ?

| | | | |
|---|---|--|---|
| <p>... in 3 Stunden?</p> <p>____ Uhr</p> <p>____ Uhr</p> | <p>... in 5 Stunden?</p> <p>____ Uhr</p> <p>____ Uhr</p> | <p>... vor 4 Stunden?</p> <p>____ Uhr</p> <p>____ Uhr</p> | <p>... vor 2 Stunden?</p> <p>____ Uhr</p> <p>____ Uhr</p> |
| <p>... in 30 Minuten?</p> <p>____ Uhr</p> <p>____ Uhr</p> | <p>... in 2 Stunden und 30 Minuten?</p> <p>____ Uhr</p> <p>____ Uhr</p> | <p>... vor 30 Minuten?</p> <p>____ Uhr</p> <p>____ Uhr</p> | <p>... vor 1 Stunde und 30 Minuten?</p> <p>____ Uhr</p> <p>____ Uhr</p> |



Trage beide Uhrzeiten ein.

_____ Uhr

_____ Uhr



Wie spät ist es in ... ?

Wie spät war es vor ... ?

| | | | |
|--|---|---|--|
| ... in 4 Stunden? _____ Uhr _____ Uhr | ... in 6 Stunden? _____ Uhr _____ Uhr | ... vor 5 Stunden? _____ Uhr _____ Uhr | ... vor 3 Stunden? _____ Uhr _____ Uhr |
| ... in 15 Minuten? _____ Uhr _____ Uhr | ... in 3 Stunden und 15 Minuten? _____ Uhr _____ Uhr | ... vor 15 Minuten? _____ Uhr _____ Uhr | ... vor 4 Stunden und 15 Minuten? _____ Uhr _____ Uhr |



Trage beide Uhrzeiten ein.


____ Uhr
____ Uhr



Wie spät ist es in ... ?

Wie spät war es vor ... ?

| | | | |
|--|---|---|--|
| ... in 4 Stunden? ____ Uhr ____ Uhr | ... in 6 Stunden? ____ Uhr ____ Uhr | ... vor 5 Stunden? ____ Uhr ____ Uhr | ... vor 3 Stunden? ____ Uhr ____ Uhr |
| ... in 15 Minuten? ____ Uhr ____ Uhr | ... in 3 Stunden und 15 Minuten? ____ Uhr ____ Uhr | ... vor 15 Minuten? ____ Uhr ____ Uhr | ... vor 4 Stunden und 15 Minuten? ____ Uhr ____ Uhr |



Trage beide Uhrzeiten ein.


____ Uhr
____ Uhr



Wie spät ist es in ... ?

Wie spät war es vor ... ?

| | | | |
|--|---|---|--|
| ... in 7 Stunden? ____ Uhr ____ Uhr | ... in 10 Stunden? ____ Uhr ____ Uhr | ... vor 8 Stunden? ____ Uhr ____ Uhr | ... vor 4 Stunden? ____ Uhr ____ Uhr |
| ... in 45 Minuten? ____ Uhr ____ Uhr | ... in 5 Stunden und 45 Minuten? ____ Uhr ____ Uhr | ... vor 45 Minuten? ____ Uhr ____ Uhr | ... vor 3 Stunden und 45 Minuten? ____ Uhr ____ Uhr |



Trage beide Uhrzeiten ein.

_____ Uhr

_____ Uhr




6

Wie spät ist es in ... ?

Wie spät war es vor ... ?

| | | | |
|--|---|---|--|
| ... in 7 Stunden? _____ Uhr _____ Uhr | ... in 10 Stunden? _____ Uhr _____ Uhr | ... vor 8 Stunden? _____ Uhr _____ Uhr | ... vor 4 Stunden? _____ Uhr _____ Uhr |
| ... in 45 Minuten? _____ Uhr _____ Uhr | ... in 5 Stunden und 45 Minuten? _____ Uhr _____ Uhr | ... vor 45 Minuten? _____ Uhr _____ Uhr | ... vor 3 Stunden und 45 Minuten? _____ Uhr _____ Uhr |



Trage beide Uhrzeiten ein.

_____ Uhr

_____ Uhr



Wie spät ist es in ... ?

Wie spät war es vor ... ?

| | | | |
|--|---|---|--|
| ... in 45 Minuten? _____ Uhr _____ Uhr | ... in 3 Stunden und 45 Minuten? _____ Uhr _____ Uhr | ... vor 45 Minuten? _____ Uhr _____ Uhr | ... vor 2 Stunden und 45 Minuten? _____ Uhr _____ Uhr |
| ... in 20 Minuten? _____ Uhr _____ Uhr | ... in 6 Stunden und 40 Minuten? _____ Uhr _____ Uhr | ... vor 40 Minuten? _____ Uhr _____ Uhr | ... vor 4 Stunden und 20 Minuten? _____ Uhr _____ Uhr |



Trage beide Uhrzeiten ein.

____ Uhr
____ Uhr



8

Wie spät ist es in ... ?

Wie spät war es vor ... ?

| | | | |
|--|---|---|--|
| ... in 45 Minuten? ____ Uhr ____ Uhr | ... in 3 Stunden und 45 Minuten? ____ Uhr ____ Uhr | ... vor 45 Minuten? ____ Uhr ____ Uhr | ... vor 2 Stunden und 45 Minuten? ____ Uhr ____ Uhr |
| ... in 20 Minuten? ____ Uhr ____ Uhr | ... in 6 Stunden und 40 Minuten? ____ Uhr ____ Uhr | ... vor 40 Minuten? ____ Uhr ____ Uhr | ... vor 4 Stunden und 20 Minuten? ____ Uhr ____ Uhr |