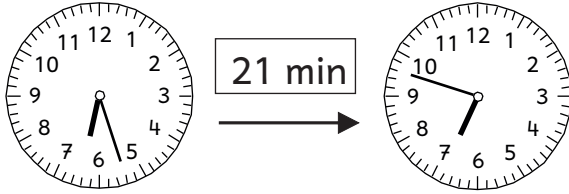


Name:

Datum:

Wie viele Minuten sind vergangen?

Schreibe außerdem beide Möglichkeiten der Uhrzeiten auf.

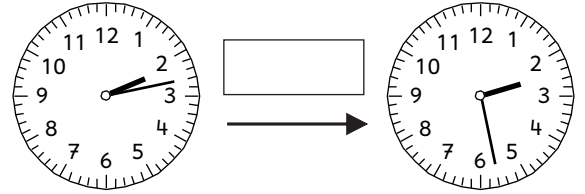


6.27 Uhr

6.48 Uhr

18.27 Uhr

18.48 Uhr

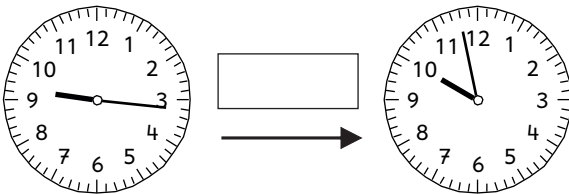


\_\_\_\_\_ Uhr

\_\_\_\_\_ Uhr

\_\_\_\_\_ Uhr

\_\_\_\_\_ Uhr

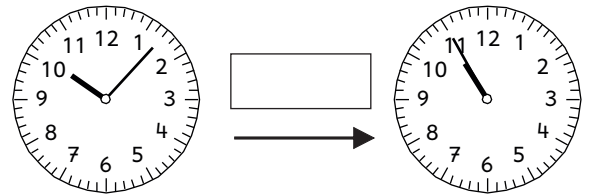


\_\_\_\_\_ Uhr

\_\_\_\_\_ Uhr

\_\_\_\_\_ Uhr

\_\_\_\_\_ Uhr

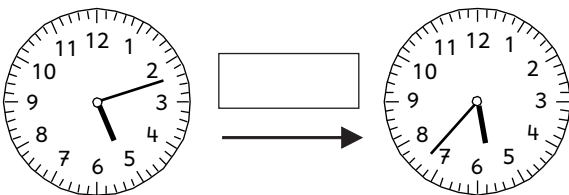


\_\_\_\_\_ Uhr

\_\_\_\_\_ Uhr

\_\_\_\_\_ Uhr

\_\_\_\_\_ Uhr

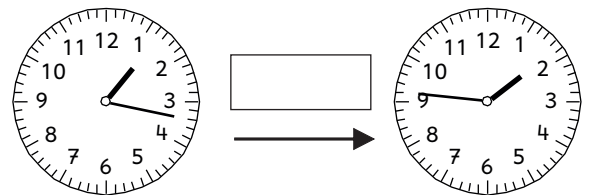


\_\_\_\_\_ Uhr

\_\_\_\_\_ Uhr

\_\_\_\_\_ Uhr

\_\_\_\_\_ Uhr

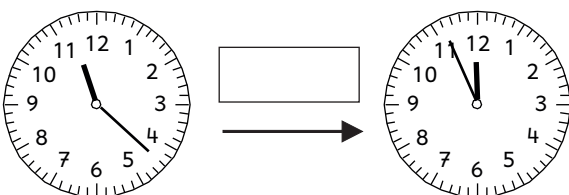


\_\_\_\_\_ Uhr

\_\_\_\_\_ Uhr

\_\_\_\_\_ Uhr

\_\_\_\_\_ Uhr

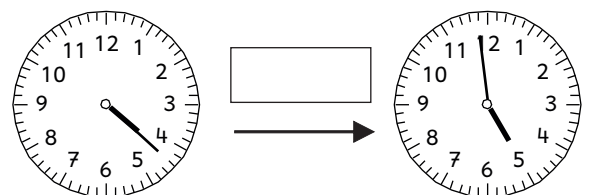


\_\_\_\_\_ Uhr

\_\_\_\_\_ Uhr

\_\_\_\_\_ Uhr

\_\_\_\_\_ Uhr



\_\_\_\_\_ Uhr

\_\_\_\_\_ Uhr

\_\_\_\_\_ Uhr



\_\_\_\_\_ Uhr

Name:

Datum:


Wie viele Minuten sind vergangen?

Schreibe außerdem beide Möglichkeiten der Uhrzeiten auf.




\_\_\_\_ Uhr  
\_\_\_\_ Uhr

\_\_\_\_ Uhr  
\_\_\_\_ Uhr





\_\_\_\_ Uhr  
\_\_\_\_ Uhr

\_\_\_\_ Uhr  
\_\_\_\_ Uhr




\_\_\_\_ Uhr  
\_\_\_\_ Uhr

\_\_\_\_ Uhr  
\_\_\_\_ Uhr





\_\_\_\_ Uhr  
\_\_\_\_ Uhr

\_\_\_\_ Uhr  
\_\_\_\_ Uhr




\_\_\_\_ Uhr  
\_\_\_\_ Uhr

\_\_\_\_ Uhr  
\_\_\_\_ Uhr





\_\_\_\_ Uhr  
\_\_\_\_ Uhr

\_\_\_\_ Uhr  
\_\_\_\_ Uhr



\_\_\_\_ Uhr  
\_\_\_\_ Uhr

\_\_\_\_ Uhr  
\_\_\_\_ Uhr



\_\_\_\_ Uhr  
\_\_\_\_ Uhr

\_\_\_\_ Uhr  
\_\_\_\_ Uhr

Name:


Datum:

Wie viel Uhr ist es gleich?

Schreibe beide Möglichkeiten der Uhrzeiten auf.




32 min




\_\_\_\_ Uhr  
\_\_\_\_ Uhr

\_\_\_\_ Uhr  
\_\_\_\_ Uhr



38 min

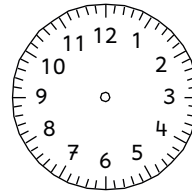


\_\_\_\_ Uhr  
\_\_\_\_ Uhr

\_\_\_\_ Uhr  
\_\_\_\_ Uhr




14 min




\_\_\_\_ Uhr  
\_\_\_\_ Uhr

\_\_\_\_ Uhr  
\_\_\_\_ Uhr




27 min

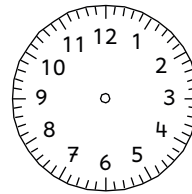


\_\_\_\_ Uhr  
\_\_\_\_ Uhr

\_\_\_\_ Uhr  
\_\_\_\_ Uhr




45 min




\_\_\_\_ Uhr  
\_\_\_\_ Uhr

\_\_\_\_ Uhr  
\_\_\_\_ Uhr



41 min




\_\_\_\_ Uhr  
\_\_\_\_ Uhr

\_\_\_\_ Uhr  
\_\_\_\_ Uhr




23 min




\_\_\_\_ Uhr  
\_\_\_\_ Uhr

\_\_\_\_ Uhr  
\_\_\_\_ Uhr



34 min



\_\_\_\_ Uhr  
\_\_\_\_ Uhr


\_\_\_\_ Uhr  
\_\_\_\_ Uhr

Name:


Datum:

Wie viel Uhr war es gerade?

Schreibe beide Möglichkeiten der Uhrzeiten auf.




12 min




\_\_\_\_ Uhr  
\_\_\_\_ Uhr

\_\_\_\_ Uhr  
\_\_\_\_ Uhr

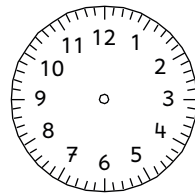


32 min



\_\_\_\_ Uhr  
\_\_\_\_ Uhr

\_\_\_\_ Uhr  
\_\_\_\_ Uhr

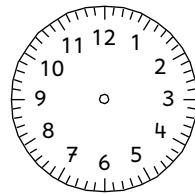


24 min



\_\_\_\_ Uhr  
\_\_\_\_ Uhr

\_\_\_\_ Uhr  
\_\_\_\_ Uhr




36 min




\_\_\_\_ Uhr  
\_\_\_\_ Uhr

\_\_\_\_ Uhr  
\_\_\_\_ Uhr

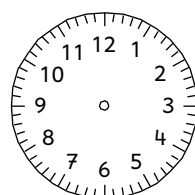


38 min




\_\_\_\_ Uhr  
\_\_\_\_ Uhr

\_\_\_\_ Uhr  
\_\_\_\_ Uhr

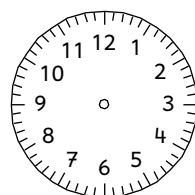


19 min




\_\_\_\_ Uhr  
\_\_\_\_ Uhr

\_\_\_\_ Uhr  
\_\_\_\_ Uhr

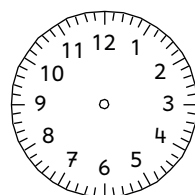


27 min




\_\_\_\_ Uhr  
\_\_\_\_ Uhr

\_\_\_\_ Uhr  
\_\_\_\_ Uhr



33 min



\_\_\_\_ Uhr  
\_\_\_\_ Uhr

\_\_\_\_ Uhr  
\_\_\_\_ Uhr

Genutzt habe ich die Andika Basic von Frau Arnold

und den worksheet crafter